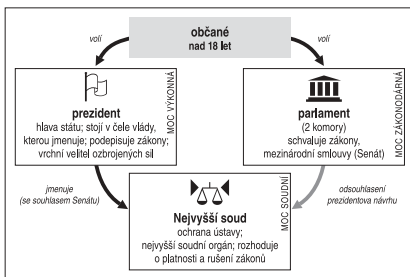


ÚLOHY, SAMOSTATNÉ PRÁCE V HODINĚ

práce s atlasem, učebnicí, mapou, internetem

ZÁKLADNÍ

- 1 Jak se nazývá parlament USA, z jakých částí/komor se skládá?
- 2 Jaký je úřední jazyk v USA? Který jazyk je dnes druhý nejrozšířenější v USA?
- 3 Kolik států (kolonií) založilo USA, kolik jich mají USA dnes?
- 4 Co víte o původních obyvatelích Severní Ameriky (před příchodem Evropanů)?
- 5 Jaké podnebné oblasti a šířková vegetační pásma zasahují na území USA?
- 6 Jaké je hlavní město USA, kde se nachází?
- 7 V čem se liší politický systém v prezidentské (viz schéma) a parlamentní republice? Srovnajte s ČR.

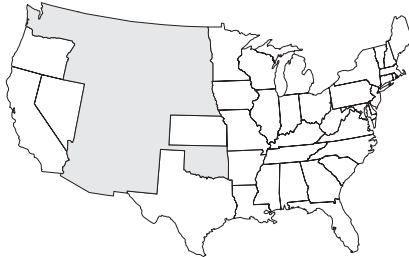


- 8 Které státy USA nesousedí s žádným jiným státem Unie?
- 9 Zapište do slepé mapy následující státy: Texas, Oregon, Florida, New York, Kalifornie, Virginie, Michigan, Maine, Washington, Kentucky.



- 10 Co způsobuje regionální rozdíly ve volebních preferencích v USA?

- 11 Popište v mapě největší severoamerické řeky (mapa je na druhém listu).
- 12 Vybarvte ve slepé mapě státy, které byly za občanské války v USA (1861–65) součástí Konfederace (Jihu).



- 13 Vyhleďte, kolik je hodin v městech Anchorage, Honolulu, Miami, New Orleans, San Francisco, pokud v New Yorku je devět hodin ráno.
- 14 Jaké jsou výhody a nevýhody většinového volebního systému oproti poměrnému?
- 15 V dějinách USA se objevili dva významní prezidenti stejného jména – Roosevelt. Měli něco společného? Co o nich víte?



- 16 Kdo je dnes prezidentem a viceprezidentem USA?
- 17 Kolik červených pruhů mají USA na státní vlajce? Co tento počet symbolizuje?
- 18 Kterými z uvedených států neprotéká řeka Ohio: Pensylvánie, Ohio, Alabama, Colorado, Indiana, Wyoming, Tennessee, Illinois?
- 19 Co je to ústava? Odkdy mají USA ústavu? Jakým způsobem dochází k jejímu pozměňování?
- 20 Jak se nazývá měna (peníze) v USA? Jaký je zhruba její poměr vůči české koruně?

O **plnohodnotnou** verzi pracovních listů včetně řešení testových úloh si napište na info@p3k.cz. Obratem vám je e-mailem pošleme **zdarma**.

Máte-li zájem o Atlas prezidentských voleb USA (cena 99 Kč), napište na objednavky@p3k.cz.

© 2005, Nakladatelství P3K



TESTOVÉ OTÁZKY



(vždy právě jedna možnost je správná)

- Kdo je dnes prezidentem USA?**
 - George Washington
 - George Bush
 - Ronald Reagan
 - William Clinton
 - George Bushmann
- Na jak dlouho je volen prezident USA (délka funkčního období)?**
 - 4 roky
 - 3 roky
 - 5 let
 - 2 roky
 - 8 let
- Který stát USA není součástí severoamerického kontinentu?**
 - Florida
 - Oregon
 - Rhode Island
 - Aljaška
 - Havaj
- Kdo byl nejdéle úřadujícím prezidentem USA ve 20. století (a současně v celé historii USA)?**
 - George Bush
 - Abraham Lincoln
 - Theodore Roosevelt
 - John F. Kennedy
 - Franklin D. Roosevelt
- Jaké jsou dvě hlavní politické strany v USA?**
 - Republikánská a Liberální
 - Republikánská a Socialistická
 - Republikánská a Demokratická
 - Konzervativní a Demokratická
 - Demokratická a Socialistická
- Kolik států mají dnes USA?**
 - 52
 - 50
 - 49
 - 63
 - 53
- Z které politické strany je současný prezident USA?**
 - Demokratické
 - Republikánské
 - Konzervativní
 - Socialistické
 - Liberální
- Kdy byl přijat poslední stát do USA? Který to byl?**
 - 1964, Washington
 - 1959, Havaj
 - 1960, Aljaška
 - 1962, Aljaška
 - 1945, Nové Mexiko
- Ve kterém státě USA žije nejvíce obyvatel? Jaký je to přibližně podíl z celkové populace USA?**
 - New York, 1/10
 - Florida, 1/5
 - Texas, 1/2
 - Kalifornie, 1/10
 - New Hampshire, 1/5
- Se kterými státy mají USA pevninskou hranici?**
 - Mexiko, Kanada
 - Mexiko, Kanada, Rusko
 - Kanada, Rusko
 - Kanada, Mexiko, Kostarika
 - Kalifornie, Mexiko, Grónsko
- Jaké je hlavní město USA?**
 - New York
 - Los Angeles
 - Philadelphia
 - Washington
 - Chicago
- Jaké je nejlidnatější město USA?**
 - New York
 - Los Angeles
 - Washington
 - Atlanta
 - Boston
- Který z uvedených států neleží na pobřeží Atlantského oceánu?**
 - Georgie
 - Severní Karolína
 - Delaware
 - Idaho
 - Massachusetts
- Ve kterém státě USA leží město Los Angeles?**
 - Louisiana
 - Mississippi
 - Washington
 - Arizona
 - Kalifornie

O plnohodnotnou verzi pracovních listů včetně řešení testových úloh si napište na info@p3k.cz. Obratem vám je e-mailem pošleme zdarma.

Máte-li zájem o Atlas prezidentských voleb USA (cena 99 Kč), napište na objednavky@p3k.cz.

© 2005, Nakladatelství P3K



URČOVÁNÍ STÁTŮ („zebra“)

práce s atlasem, mapou, učebnicí, tabulkami, internetem

Státy A–E jsou státy USA.

Z níže uvedených srovnání zjistěte názvy těchto států.

- Stát A je druhým nejrozlehlejším státem USA.
- Stát B sousedí se státem D.
- Stát C má zcela „geometrický“ tvar hranic.
- Stát D byl kolonií založenou Švédy.
- Stát E má vysoký podíl španělsky hovořícího obyvatelstva.
- Státy A, B i E mají vysoký (více než 20) počet volitelů v tzv. sboru volitelů.
- Stát A je velkým producentem ropy.
- Ve státě C nezmobilizoval od roku 1968 v prezidentských volbách jiný než republikánský kandidát.
- Stát E je naopak od roku 1992 baštou demokratů.
- Stát D má méně obyvatel než státy A, B i E, ale více než stát C.
- Stát B nese jméno po rodině, která kolonii založila a vlastnila.
- Stát E leží u jiného oceánu než stát D.
- Na území státu C se nachází Yellowstoneý národní park.
- Státy B i D leží v tzv. středoatlantské oblasti USA.

- A
- B
- C
- D
- E

O **plnohodnotnou** verzi pracovních listů včetně řešení testových úloh si napište na **info@p3k.cz**. Obratem vám je e-mailem pošleme **zdarma**.

Máte-li zájem o Atlas prezidentských voleb USA (cena 99 Kč), napište na **objednavky@p3k.cz**.

© 2005, Nakladatelství P3K

