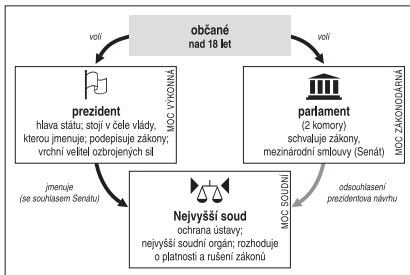


## ÚLOHY, SAMOSTATNÉ PRÁCE V HODINĚ

práce s atlasem, učebnicí, mapou, internetem

### ZÁKLADNÍ

- 1 Jak se nazývá parlament USA, z jakých částí/komor se skládá?
- 2 Jaký je úřední jazyk v USA? Který jazyk je dnes druhý nejrozšířenější v USA?
- 3 Kolik států (kolonií) založilo USA, kolik jich mají USA dnes?
- 4 Co víte o původních obyvatelích Severní Ameriky (před příchodem Evropanů)?
- 5 Jaké podnebné oblasti a šířková vegetační pásma zasahují na území USA?
- 6 Jaké je hlavní město USA, kde se nachází?
- 7 V čem se liší politický systém v prezidentské (viz schéma) a parlamentní republice? Srovnajte s ČR.



- 8 Které státy USA nesousedí s žádným jiným státem Unie?
- 9 Zapište do slepé mapy následující státy: Texas, Oregon, Florida, New York, Kalifornie, Virginie, Michigan, Maine, Washington, Kentucky.



- 10 Co způsobuje regionální rozdíly ve volebních preferencích v USA?

- 11 Popište v mapě největší severoamerické řeky (mapa je na druhém listu).
- 12 Vybarvte ve slepé mapě státy, které byly za občanské války v USA (1861–65) součástí Konfederace (Jihu).



- 13 Vyhledejte, kolik je hodin v městech Anchorage, Honolulu, Miami, New Orleans, San Francisco, pokud v New Yorku je devět hodin ráno.
- 14 Jaké jsou výhody a nevýhody většinového volebního systému oproti poměrnému?
- 15 V dějinách USA se objevili dva významní prezidenti stejného jména – Roosevelt. Měli něco společného? Co o nich víte?



- 16 Kdo je dnes prezidentem a viceprezidentem USA?
- 17 Kolik červených pruhů mají USA na státní vlajce? Co tento počet symbolizuje?
- 18 Kterými z uvedených států neprotéká řeka Ohio: Pensylvánie, Ohio, Alabama, Colorado, Indiana, Wyoming, Tennessee, Illinois?
- 19 Co je to ústava? Odkdy mají USA ústavu? Jakým způsobem dochází k jejímu pozměňování?
- 20 Jak se nazývá měna (peníze) v USA? Jaký je zhruba její poměr vůči české koruně?

O plnohodnotnou verzi pracovních listů včetně řešení testových úloh si napište na [info@p3k.cz](mailto:info@p3k.cz). Obratem vám je e-mailem pošleme zdarma.

Máte-li zájem o Atlas prezidentských voleb USA (cena 99 Kč), napište na [objednavky@p3k.cz](mailto:objednavky@p3k.cz).

© 2005, Nakladatelství P3K



## TESTOVÉ OTÁZKY



(vždy právě jedna možnost je správná)

- 1) Kdo je dnes prezidentem USA?
  - a) George Washington
  - b) George Bush
  - c) Ronald Reagan
  - d) William Clinton
  - e) George Bushmann
- 2) Na jak dlouho je volen prezident USA (délka funkčního období)?
  - a) 4 roky
  - b) 3 roky
  - c) 5 let
  - d) 2 roky
  - e) 8 let
- 3) Který stát USA není součástí severoamerického kontinentu?
  - a) Florida
  - b) Oregon
  - c) Rhode Island
  - d) Aljaška
  - e) Havaj
- 4) Kdo byl nejdéle úřadujícím prezidentem USA ve 20. století (a současně v celé historii USA)?
  - a) George Bush
  - b) Abraham Lincoln
  - c) Theodore Roosevelt
  - d) John F. Kennedy
  - e) Franklin D. Roosevelt
- 5) Jaké jsou dvě hlavní politické strany v USA?
  - a) Republikánská a Liberální
  - b) Republikánská a Socialistická
  - c) Republikánská a Demokratická
  - d) Konzervativní a Demokratická
  - e) Demokratická a Socialistická
- 6) Kolik států mají dnes USA?
  - a) 52
  - b) 50
  - c) 49
  - d) 63
  - e) 53
- 7) Z které politické strany je současný prezident USA?
  - a) Demokratické
  - b) Republikánské
  - c) Konzervativní
  - d) Socialistické
  - e) Liberální
- 8) Kdy byl přijat poslední stát do USA? Který to byl?
  - a) 1964, Washington
  - b) 1959, Havaj
  - c) 1960, Aljaška
  - d) 1962, Aljaška
  - e) 1945, Nové Mexiko
- 9) Ve kterém státě USA žije nejvíce obyvatel? Jaký je to přibližně podíl z celkové populace USA?
  - a) New York, 1/10
  - b) Florida, 1/5
  - c) Texas, 1/2
  - d) Kalifornie, 1/10
  - e) New Hampshire, 1/5
- 10) Se kterými státy mají USA pevninskou hranici?
  - a) Mexiko, Kanada
  - b) Mexiko, Kanada, Rusko
  - c) Kanada, Rusko
  - d) Kanada, Mexiko, Kostarika
  - e) Kalifornie, Mexiko, Grónsko
- 11) Jaké je hlavní město USA?
  - a) New York
  - b) Los Angeles
  - c) Philadelphia
  - d) Washington
  - e) Chicago
- 12) Jaké je nejlidnatější město USA?
  - a) New York
  - b) Los Angeles
  - c) Washington
  - d) Atlanta
  - e) Boston
- 13) Který z uvedených států neleží na pobřeží Atlantského oceánu?
  - a) Georgie
  - b) Severní Karolína
  - c) Delaware
  - d) Idaho
  - e) Massachusetts
- 14) Ve kterém státě USA leží město Los Angeles?
  - a) Louisiana
  - b) Mississippi
  - c) Washington
  - d) Arizona
  - e) Kalifornie

O plnohodnotnou verzi pracovních listů včetně řešení testových úloh si napište na [info@p3k.cz](mailto:info@p3k.cz). Obratem vám je e-mailem pošleme zdarma.

Máte-li zájem o Atlas prezidentských voleb USA (cena 99 Kč), napište na [objednavky@p3k.cz](mailto:objednavky@p3k.cz).

© 2005, Nakladatelství P3K



## URČOVÁNÍ STÁTŮ („zebra“)

*práce s atlasem, mapou, učebnicí, tabulkami, internetem*

Státy A–E jsou státy USA.

Z níže uvedených srovnání zjistěte názvy těchto států.

- Stát A je druhým nejrozlehlejším státem USA.
- Stát B sousedí se státem D.
- Stát C má zcela „geometrický“ tvar hranic.
- Stát D byl kolonií založenou Švédy.
- Stát E má vysoký podíl španělsky hovořícího obyvatelstva.
- Státy A, B i E mají vysoký (více než 20) počet volitelů v tzv. sboru volitelů.
- Stát A je velkým producentem ropy.
- Ve státě C nezmobilizoval od roku 1968 v prezidentských volbách jiný než republikánský kandidát.
- Stát E je naopak od roku 1992 baštou demokratů.
- Stát D má méně obyvatel než státy A, B i E, ale více než stát C.
- Stát B nese jméno po rodině, která kolonii založila a vlastnila.
- Stát E leží u jiného oceánu než stát D.
- Na území státu C se nachází Yellowstoneý národní park.
- Státy B i D leží v tzv. středoatlantské oblasti USA.

- A .....
- B .....
- C .....
- D .....
- E .....

O **plnohodnotnou** verzi pracovních listů včetně řešení testových úloh si napište na **info@p3k.cz**. Obratem vám je e-mailem pošleme **zdarma**.

Máte-li zájem o Atlas prezidentských voleb USA (cena 99 Kč), napište na **objednavky@p3k.cz**.

© 2005, Nakladatelství P3K

